



Лист 1 – Задания

Дата проведения: 9 апреля 2015 года

Возрастная группа: Детский сад

Время проведения: 30 минут

Конкурсное задание состоит из 15 вопросов.

Количество верных ответов может быть больше одного!

ФИ участника	
ФИО воспитателя	

Раздел 1. Здоровье и здоровый образ жизни

1. У кого из ребят правильная осанка? Обведи ответы.




2. Выбери причины неправильной осанки? Обведи ответы.



3. Кто из ребят закаливает свой организм? Обведи ответ.



4. Кто из ребят заботится о своём здоровье и поступает правильно? Обведи ответы.



5. Выбери одежду для лыжной прогулки. Выбери ответ.



- (1) А, В, Г, К;
- (2) В, Е, З, И;
- (3) Б, Д, И, Ж;
- (4) Г, В, Е, Ж.

6. Сколько отличий на картинках? Ответ запиши числом в рамку.



7. Какое правило нарушает девочка? Выбери ответ.



- (1) общения;
- (2) поведения на улице;
- (3) личной гигиены;
- (4) закаливания.

Раздел 2. Спортивный практик

8. Кто из ребят занимается спортом? Обведи ответы.



(1)



(2)



(3)




(4)

9. Какие мышцы укрепляет упражнение, выполняемое мальчиком? Выбери ответ.



- (1) мышцы рук;
- (2) мышцы живота;
- (3) мышцы спины;
- (4) мышцы ног.


10. Скоро ты пойдёшь в школу. Вставь в пустые клетки распорядка дня девочки вместо букв А, Б, В недостающие мероприятия – , , . Выбери последовательность из предложенных.



А



Б



В



- (1) А – , Б – , В –
 (2) А – , Б – , В –

- (3) А – , Б – , В –
 (4) А – , Б – , В –

11. Во время игры с друзьями мальчик повредил ногу. В месте ссадины на голени открылось несильное кровотечение. Что нужно сделать для оказания первой помощи? Выбери правильные ответы.



- (1) (2) (3) (4)

Раздел 3. Из истории спорта, олимпийского движения

12. Какой вид спорта входил в программу Олимпийских игр в Сочи? Обведи ответ.



- (1) (2) (3) (4)

13. На каком рисунке изображён олимпийский символ? Обведи ответ.




- (1) (2) (3) (4)

14. Каким видом спорта занимались древние люди, изображённые на картинке? Выбери ответ.



- (1) (2) (3) (4)

15. Выбери каждому спортивному судье А, Б, В своих спортсменов – \blacktriangle , \blacksquare , \bullet . Выбери последовательность из предложенных.



- (1) А – \bullet , Б – \blacksquare , В – \blacktriangle (3) А – \blacksquare , Б – \blacktriangle , В – \bullet
 (2) А – \blacktriangle , Б – \bullet , В – \blacksquare (4) А – \blacktriangle , Б – \blacksquare , В – \bullet

**Ответы к заданиям
(возрастная группа «Детский сад»)**

Номер вопроса	1	2	3	4	5	6	7	8	9	10
Ответ	14	24	3	14	3	3	3	124	2	1
Номер вопроса	11	12	13	14	15					
Ответ	432	1	4	1	2					

ПРИМЕРЫ ЗАДАНИЙ